

Wege fürs Rad (Wo darf ich, wo muss ich fahren – wo darf ich nicht fahren?)














Weiter unten findest Du viele Verkehrszeichen. Sie alle sind wichtig für Radfahrer und geben Antwort auf die Frage: Wo darf ich, wo muss ich – wo darf ich nicht fahren?

Aufgabe 1 Trage die Nummern, die in jedem Verkehrszeichen-Feld oben links stehen, in die richtige Spalte der Tabelle ein.

Hier <u>darf</u> ich fahren.	Hier <u>muss</u> ich fahren.	Hier darf ich <u>nicht</u> fahren.

Aufgabe 2 Zu jedem Verkehrszeichen gehört eine Frage, die Du mit JA oder NEIN beantworten kannst. Trage die Lösungsbuchstaben ein.

▶	1	2	3	4	5	6	7	8	9	10	11	12	13
---	---	---	---	---	---	---	---	---	---	----	----	----	----

<p>1</p>  <p>Darfst Du hier der Pfeilrichtung entgegenfahren?</p> <p>JA = S NEIN = M</p>	<p>2</p>  <p>Fußgänger dürfen nicht gefährdet, aber wohl behindert werden.</p> <p>JA = A NEIN = C</p>	<p>3</p>  <p>Musst Du hier auf Fußgänger achten, weil sie plötzlich auf den Radweg kommen könnten?</p> <p>JA = H NEIN = F</p>
<p>4</p>  <p>Dürfen Autofahrer in diese Straße hineinfahren?</p> <p>JA = W NEIN = U</p>	<p>5</p>  <p>Darfst Du hier, wenn Du in Eile bist, die Fahrbahn benutzen?</p> <p>JA = H NEIN = L</p>	<p>6</p>  <p>Dürfen hier Radfahrer fahren?</p> <p>JA = R NEIN = T</p>
<p>7</p>  <p>Darfst Du hier mit Deinem Freund nebeneinander fahren?</p> <p>JA = E NEIN = G</p>	<p>8</p>  <p>Darfst Du hier mit Deinem Freund probieren, wer schneller Fahrrad fahren kann?</p> <p>JA = W NEIN = R</p>	<p>9</p>  <p>Dürfen hier Autos durchfahren?</p> <p>JA = K NEIN = B</p>
<p>10</p>  <p>Darfst Du hier auf dem Weg zur Schule mit dem Fahrrad durchfahren?</p> <p>JA = A NEIN = L</p>	<p>11</p>  <p>Darfst Du hier mit dem Fahrrad fahren?</p> <p>JA = I NEIN = O</p>	<p>12</p>  <p>Darfst Du hier im Dunkeln, wenn nur noch wenige Fußgänger unterwegs sind, mit dem Fahrrad fahren?</p> <p>JA = D NEIN = C</p>
<p>13</p>  <p>Darfst Du hier mit dem Fahrrad fahren?</p> <p>JA = P NEIN = K</p>		

Vorbeifahren an Hindernissen

Wenn Du ein Hindernis, zum Beispiel ein parkendes Auto umfährst, musst Du als Radfahrer viele einzelne Handlungen nacheinander ausführen.

Aufgabe 3 Trage die einzelnen Handlungsschritte auf den Linien neben der Zeichnung ein.

